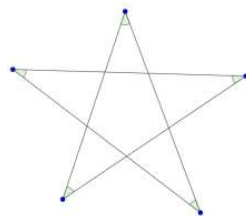


## Блок 7. Геометрия. Подсчёт углов

### Подготовительное занятие

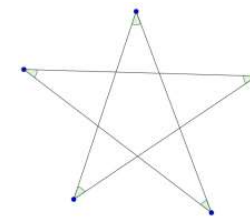
1. На стороне  $BC$  треугольника  $ABC$  отметили точку  $M$ . Оказалось, что,  $\angle BAM = 35^\circ$ ,  $\angle CAM = 15^\circ$ ,  $BM = AB$ . Найдите углы треугольника  $ABC$ .
2. Дан треугольник  $ABC$ ,  $\angle B = 73^\circ$ ,  $\angle C = 43^\circ$ . Провели высоту  $AH$  и биссектрису  $AL$ . Какая точка ближе к вершине  $B$ :  $H$  или  $L$ ?
3. В равнобедренном треугольнике  $ABC$  с углом при вершине  $A$ , равным  $36^\circ$ , проведена биссектриса  $BK$ . Докажите, что  $BK = BC$ .
4. Дан треугольник  $ABC$ ,  $\angle B = 90^\circ$ ,  $\angle A = 48^\circ$ . Найдите угол между медианой и высотой, опущенными из вершины  $B$ .
5. Биссектриса угла равнобедренного треугольника образует с противоположной стороной угол  $75^\circ$ . Определите угол при основании треугольника.
6. Найдите сумму углов пятиконечной звезды, указанных на рисунке (эти углы не обязательно равны).
7. Дан треугольник  $ABC$ ,  $\angle A = 80^\circ$ . Найдите угол между биссектрисами углов  $B$  и  $C$  треугольника.
8. Дан четырехугольник  $ABCD$ ,  $AB = BC = CD$ , лучи  $AB$  и  $DC$  пересекаются в точке  $O$ ,  $\angle BOC = 80^\circ$ . Найдите угол между диагоналями четырехугольника.



## Блок 7. Геометрия. Подсчёт углов

### Подготовительное занятие

1. На стороне  $BC$  треугольника  $ABC$  отметили точку  $M$ . Оказалось, что,  $\angle BAM = 35^\circ$ ,  $\angle CAM = 15^\circ$ ,  $BM = AB$ . Найдите углы треугольника  $ABC$ .
2. Дан треугольник  $ABC$ ,  $\angle B = 73^\circ$ ,  $\angle C = 43^\circ$ . Провели высоту  $AH$  и биссектрису  $AL$ . Какая точка ближе к вершине  $B$ :  $H$  или  $L$ ?
3. В равнобедренном треугольнике  $ABC$  с углом при вершине  $A$ , равным  $36^\circ$ , проведена биссектриса  $BK$ . Докажите, что  $BK = BC$ .
4. Дан треугольник  $ABC$ ,  $\angle B = 90^\circ$ ,  $\angle A = 48^\circ$ . Найдите угол между медианой и высотой, опущенными из вершины  $B$ .
5. Биссектриса угла равнобедренного треугольника образует с противоположной стороной угол  $75^\circ$ . Определите угол при основании треугольника.
6. Найдите сумму углов пятиконечной звезды, указанных на рисунке (эти углы не обязательно равны).
7. Дан треугольник  $ABC$ ,  $\angle A = 80^\circ$ . Найдите угол между биссектрисами углов  $B$  и  $C$  треугольника.
8. Дан четырехугольник  $ABCD$ ,  $AB = BC = CD$ , лучи  $AB$  и  $DC$  пересекаются в точке  $O$ ,  $\angle BOC = 80^\circ$ . Найдите угол между диагоналями четырехугольника.



## Блок 7. Геометрия. Подсчёт углов

### Подготовительное занятие. Указания, ответы и решения

Занятие посвящено геометрическим задачам, в которых идёт подсчёт углов треугольников.

Одна из целей занятия — вспомнить факты школьной программы: теоремы о сумме углов треугольника, теорему о величине внешнего угла треугольника, признаки и свойства равнобедренных треугольников. В задаче № 4 используется свойство медианы прямоугольного треугольника, проведенной к гипотенузе.

Другая цель — продемонстрировать ученикам, что при решении полезно искать величины даже тех углов, о которых не говорится в условии, а также выражать величины углов, вводя переменные.

1. На стороне  $BC$  треугольника  $ABC$  отметили точку  $M$ . Оказалось, что,  $\angle BAM = 35^\circ$ ,  $\angle CAM = 15^\circ$ ,  $BM = AB$ . Найдите углы треугольника  $ABC$ .

Ответ:  $50^\circ$ ,  $110^\circ$ ,  $20^\circ$ .

Решение. (1) Из условия  $\angle A = 15^\circ + 35^\circ = 50^\circ$ .

(2) Треугольник  $ABM$  — равнобедренный, поэтому  $\angle BMA = \angle BAM = 35^\circ$ .

Из суммы углов треугольника  $ABM$  имеем

$$\angle B = \angle ABM = 180^\circ - 35^\circ - 35^\circ = 110^\circ.$$

(3) Из суммы углов треугольника  $ABC$  имеем

$$\angle C = 180^\circ - \angle A - \angle B = 180^\circ - 50^\circ - 110^\circ = 20^\circ.$$

2. Дан треугольник  $ABC$ ,  $\angle B = 73^\circ$ ,  $\angle C = 43^\circ$ . Провели высоту  $AH$  и биссектрису  $AL$ . Какая точка ближе к вершине  $B$ :  $H$  или  $L$ ?

Ответ: точка  $H$  ближе.

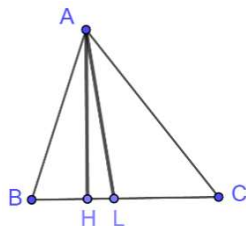
Указание. Как определить, какая точка ближе? Найдём углы  $\angle BAN$  и  $\angle BAL$ , меньшему углу соответствует ближайшая точка.

Решение. Из суммы углов треугольника  $ABC$  имеем  $\angle BAC = 180^\circ - 73^\circ - 43^\circ = 64^\circ$ . Так как  $AL$  — биссектриса, то  $\angle BAL = \angle BAC : 2 = 64^\circ : 2 = 32^\circ$ .

Из суммы углов треугольника  $ABH$  имеем  $\angle BAN = 180^\circ - 90^\circ - 73^\circ = 17^\circ$ .

Так как  $\angle BAL > \angle BAN$ , то точка  $H$  ближе к точке  $B$ , нежели точка  $L$ .

Комментарий. Можно доказать, что если  $\angle B > \angle C$ , то к вершине  $B$  точка  $H$  ближе, нежели точка  $L$ . Данный треугольник — остроугольный, точки  $H$  и  $L$  лежат на



стороне  $BC$ . Если  $L$  ближе, то угол  $ALB$  тупой, если дальше, то угол  $ALB$  острый. Суммы углов треугольников  $ALB$  и  $ALC$  равны, то есть

$$\angle BAL + \angle ABL + \angle ALB = \angle CAL + \angle ACL + \angle ALC.$$

Заметим, что  $\angle BAL > \angle BAN$ ,  $\angle BAL = \angle CAL$ . Значит,  $\angle ALB < \angle ALC$ . Так как  $\angle ALB + \angle ALC = 180^\circ$ , то  $\angle ALB$  — острый. Значит, к вершине  $B$  ближе точка  $H$ , нежели точка  $L$ .

3. В равнобедренном треугольнике  $ABC$  с углом при вершине  $A$ , равным  $36^\circ$ , проведена биссектриса  $BK$ . Докажите, что  $BK = BC$ .

Указание. Полезно найти величины тех углов, которые можно посчитать, а затем изучить результаты и сделать полезные выводы.

Решение. Углы при основании данного треугольника равны  $(180^\circ - 36^\circ) : 2 = 72^\circ$ . Значит,  $\angle KBA = \angle KBC = 36^\circ$ . Из суммы углов треугольника  $BCK$  получаем  $\angle BKC = 180^\circ - 36^\circ - 72^\circ = 72^\circ$ .

Теперь заметим, что треугольник  $ABK$  — равнобедренный ( $\angle KBA = \angle KAB = 36^\circ$ ) и треугольник  $BCK$  — равнобедренный ( $\angle BKC = \angle C = 72^\circ$ ). Значит,  $BC = BK = KA$ .

4. Дан треугольник  $ABC$ ,  $\angle B = 90^\circ$ ,  $\angle A = 48^\circ$ . Найдите угол между медианой и высотой, опущенными из вершины  $B$ .

Ответ:  $6^\circ$ .

Решение. Пусть  $BH$  — медиана,  $BM$  — медиана. Медиана прямоугольного треугольника, проведенная к гипотенузе, равна половине гипотенузы. Поэтому, треугольник  $ABM$  равнобедренный,  $\angle A = 48^\circ$ ,  $\angle BMA = 180^\circ - 48^\circ - 48^\circ = 84^\circ$ .

Из суммы углов прямоугольного треугольника  $ABC$  следует, что  $\angle AMB = 90^\circ - \angle A = 90^\circ - 48^\circ = 42^\circ$ .

5. Биссектриса угла равнобедренного треугольника образует с противоположной стороной угол  $75^\circ$ . Определите угол при основании треугольника.

Ответ:  $50^\circ$  или  $70^\circ$ .

Решение. (1) Дан равнобедренный треугольник. Если биссектриса проведена к основанию, то она является высотой, то есть не может образовывать со стороной угол  $75^\circ$ . Значит, указанная биссектриса проведена к боковой стороне.

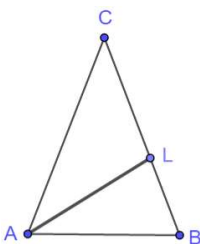
(2) Пусть дан треугольник  $ABC$ ,  $AC = CB$ ,  $AL$  — данная биссектриса,  $\angle BAL = \angle LAC = \alpha$ . Тогда,  $\angle B = 2\alpha$ . Биссектриса образует с  $BC$  угол  $\angle BLA = 180^\circ - \alpha - 2\alpha = 180^\circ - 3\alpha$  или смежный с ним  $\angle CLA = 3\alpha$ .

Если  $\angle BLA = 75^\circ$ , то  $180^\circ - 3\alpha = 75^\circ$ ,  $\alpha = 35^\circ$ .

Если  $\angle CLA = 75^\circ$ , то  $\alpha = 25^\circ$ .

В первом случае угол при основании равен  $2\alpha = 70^\circ$ , во втором —  $2\alpha = 50^\circ$ .

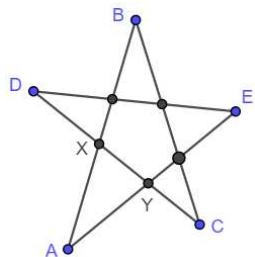
Комментарий. Обратите внимание учеников, что при решении удобно ввести переменную.



6. Найдите сумму углов пятиконечной звезды, указанных на рисунке (эти углы не обязательно равны).

Ответ:  $180^\circ$ .

Решение. Введем обозначения, как показано на рисунке:



Заметим, что  $\angle X = \angle B + \angle C$ , так как  $\angle X$  — внешний для треугольника  $BCX$ . Также  $\angle Y = \angle D + \angle E$ , так как  $\angle Y$  — внешний для треугольника  $DEY$ .

Тогда из суммы углов треугольника  $AXY$  получаем:

$$180^\circ = \angle A + \angle X + \angle Y = \angle A + \angle B + \angle C + \angle D + \angle E.$$

7. Дан треугольник  $ABC$ ,  $\angle A = 80^\circ$ . Найдите угол между биссектрисами углов  $B$  и  $C$  треугольника.

Ответ:  $50^\circ$ .

Решение. Пусть указанные биссектрисы пересекаются в точке  $I$ ,  $\angle B = 2\beta$ ,  $\angle C = 2\gamma$ . Тогда из суммы углов треугольника  $ABC$  имеем  $80^\circ + 2\beta + 2\gamma = 180^\circ$ , откуда  $\beta + \gamma = 50^\circ$ . Из суммы углов треугольника  $BCI$  имеем  $\angle BIC + \beta + \gamma = 180^\circ$ , откуда

$\angle BIC = 130^\circ$ . Так как углом между прямыми считается тот, чья величина не более  $90^\circ$ , то угол между биссектрисами равен  $180^\circ - 130^\circ = 50^\circ$ .

Комментарий (про решение). Задачу можно решить, введя одну переменную, например, величину угла  $B$ .

Комментарий (обобщение). Аналогично можно выразить угол  $BIC$  через величину угла  $A$  треугольника:  $\angle BIC = 90^\circ + \angle A/2$ . Обратите внимание, что это любопытный факт: угол между биссектрисами двух углов треугольника зависит только от третьего.

8. Дан четырехугольник  $ABCD$ ,  $AB = BC = CD$ , лучи  $AB$  и  $DC$  пересекаются в точке  $O$ ,  $\angle BOC = 80^\circ$ . Найдите угол между диагоналями четырехугольника.

Ответ:  $50^\circ$ .

Решение. Треугольники  $ACB$  и  $BCD$  — равнобедренные. Пусть  $\angle BCA = \angle BAC = \alpha$ ,  $\angle BDC = \angle CBD = \beta$ . Угол  $OBC$  — внешний для треугольника  $ACB$ , значит  $\angle OBC = 2\alpha$ . Угол  $OCB$  — внешний для треугольника  $BCD$ , значит  $\angle OCB = 2\beta$ . Из суммы углов треугольника  $OBC$  имеем  $2\alpha + 2\beta + 80^\circ = 180^\circ$ , откуда  $\alpha + \beta = 50^\circ$ .

Пусть диагонали  $AC$  и  $BD$  пересекаются в точке  $N$ . Из суммы углов треугольника  $BNC$  имеем  $\angle BNC = 180^\circ - \angle BCA - \angle CBD = 180^\circ - (\alpha + \beta) = 130^\circ$ . Угол между прямыми  $AC$  и  $BD$  равен  $180^\circ - 130^\circ = 50^\circ$ .